

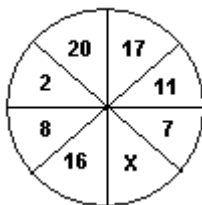


## SUCESIONES GRÁFICAS

Son disposiciones de números de tal manera que exista una ley de formación. Para hallar la ley de formación se utilizan operaciones básicas y el análisis se realiza de forma directa.

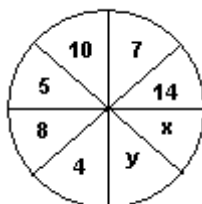
### CONSTRUYENDO MIS CONOCIMIENTOS

1. ¿Qué número falta?






- A) 29      B) 27      C) 24  
D) 16      E) 5

2. Hallar  $X+Y$



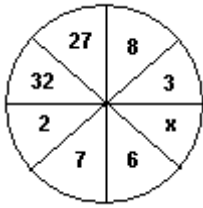
- A) 23      B) 33      C) 43  
D) 53      E) N.A

3. ¿Qué número falta?



- A) 14      B) 15      C) 17  
D) 19      E) N.A

4. ¿Qué número falta?




- A) 11                      B) 14                      C) 15  
D) 12                      E) N.A

5. ¿Qué número falta?

6	8	14	9
18	24	42	x

- A) 25                      B) 27                      C) 22  
D) 23                      E) N.A

6. ¿Qué número falta?



- A) 5                      B) 6                      C) 7  
D) 8                      E) 9

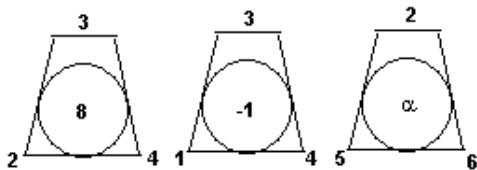
**REFORZANDO  
MIS CAPACIDADES**

1. ¿Qué número falta?

8	26	44
14	32	50
20	38	?

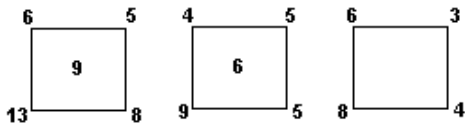
- A) 56                      B) 55                      C) 58  
D) 59                      E) 60

2. Hallar X



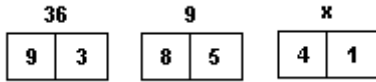
- A) 27                      B) 8                      C) 32  
D) -5                      E) 64

3. ¿Qué número falta?



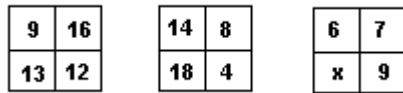
- A) 4                      B) 5                      C) 7  
D) 9                      E) 6

4. Hallar X



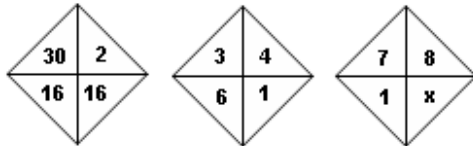
- A) 9                      B) 16                      C) 25  
D) 49                      E) 36

5. ¿Qué número falta?



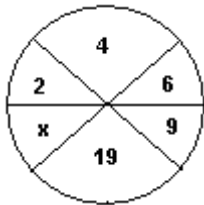
- A) 3                      B) 4                      C) 6  
D) 7                      E) 8

6. ¿Qué número falta?



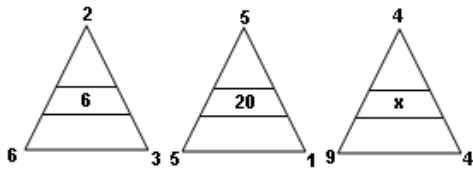
- A) 16                      B) 4                      C) 7  
D) 15                      E) 14

7. ¿Qué número sigue?



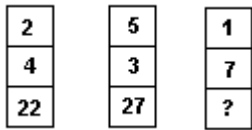
- A) 38                      B) 37                      C) 33  
D) 42                      E) 40

8. Calcular Y-X



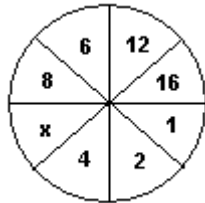
- A) 10                  B) 15                  C) 20  
 D) 25                  E) 30

9. ¿Qué número falta?



- A) 31                  B) 36                  C) 28  
 D) 24                  E) 22

10. Halla el valor de X:



- A) 7                      B) 8                      C) 6  
 D) 11                    E) 14

# RAZONAMIENTO MATEMATICO