



ORDEN DE INFORMACIÓN

Estos tres jóvenes trabajan en una famosa cadena de Hipermercados; se sabe que Rubén está a la derecha de Hugo y a su vez Hugo se encuentra a la derecha de Mario.

Coloca el nombre de cada joven en el recuadro.




¡No es difícil, debes tomar en cuenta cada información proporcionada y lo lograrás!

¡AHORA ES TU TURNO!

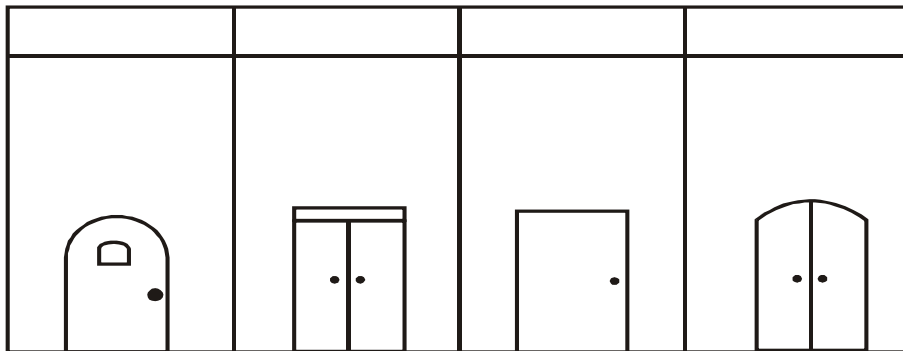
Recuerda que cada información proporcionada es muy importante para resolver cada problema ¡Adelante tú puedes!

1. Un grupo de señoritas estaban haciendo cola para una entrevista de trabajo; se sabe que Rita estaba adelante de Evelyn y Soledad estaba adelante de Marita; a su vez Marita estaba adelante de Rita.


* Ubica el nombre de cada una.



2. José vive a la izquierda de Martín, a la derecha de José vive Luis y Hugo vive a la derecha de Luis. Ubica cada nombre en la casa que corresponde:



3. Cuatro jóvenes hacen cola para entrar al cine. Si sabemos que Franco está adelante de Marcos y que Óscar está delante de César, pero Franco está detrás de César. Coloca el nombre de cada uno en el recuadro.




4. El auto de Pedro está adelante del auto de Antonio y el auto de Pedro está detrás del auto de Enrique.

Coloca en los recuadros el nombre del dueño de cada auto.








5. En una competencia de atletismo se obtuvo el siguiente resultado:

- Juan llegó antes que Jorge
- Ricardo llegó después que Gustavo
- Jorge llegó antes que Gustavo

Dibuja y coloca sus nombres.



6. El auto de Carolina está detrás del auto de Fabiola, el auto de Maribel está delante del auto de Romina y el auto de Romina está delante del auto de Fabiola.

Dibuja y coloca el nombre que corresponda en cada auto.



Reto a tu ingenio

Un lechero dispone únicamente de dos jarras de 3 y 5 litros de capacidad para medir la leche que vende a sus clientes.

¿Cómo podrá medir un litro sin desperdiciar la leche?

