



GEOGRAFIA DE LA SELVA


La Selva se encuentra situada en las partes bajas del flanco oriental de los Andes.

Su territorio es bastante complejo en donde distinguimos dos regiones altitudinales.

- **Selva Alta:** Es la parte más sobresaliente en toda su amplitud, con sus cadenas de montañas con afiladas crestas, flancos abruptos y amplios valles. Está cubierta de bosques tropicales, que se desarrollan por el impulso de las altas temperaturas y lluvias. Sus suelos son inclinados, por tanto, son suelos que no se inundan, siendo en consecuencia óptimos para el desarrollo de las actividades económicas.
- **Selva Baja:** Presenta un relieve de llanura, cubierta de un denso bosque tropical, es inundable, cuando los ríos confrontan su período creciente.


RECUERDA:

Los departamentos de Loreto y Ucayali y parte de Madre de Dios y San Martín, pertenecen a la región de la Selva Baja.



Ejercicios

1. Pinta el siguiente gráfico:



2. Coloca verdadero (V) o falso (F).

- A) La Selva Alta está conformada por cadena de montañas.
()
- B) La Selva Baja tiene suelos inclinados.
()
- C) Madre de Dios pertenece a la Selva Alta.
()
- D) Amazonas pertenece a la Selva Alta.
()



Averigua:

1. ¿Qué costumbres tienen los pobladores de la región de la Selva?

2. ¿Qué tipo de clima tiene la Selva?

3. Vocabulario

A) Aguajales:


B) Pongos:

C) Cuencas:

D) Vertiente:

E) Meandros:

En Loreto hay muchas aves ornamentales como los guacamayos, loros, gallito de las rocas, tucanes, etc., de hermosos colores.



LORETO

Loreto es el departamento más grande del país y el que posee más límites internacionales: por el oeste con Ecuador, por el norte y noreste con Colombia y por el este con Brasil. Además limita por el sur con Ucayali y por el oeste con San Martín y Amazonas.

Todo su territorio está cubierto por una espesa y pluviosa selva, con una gran diversidad de especies.

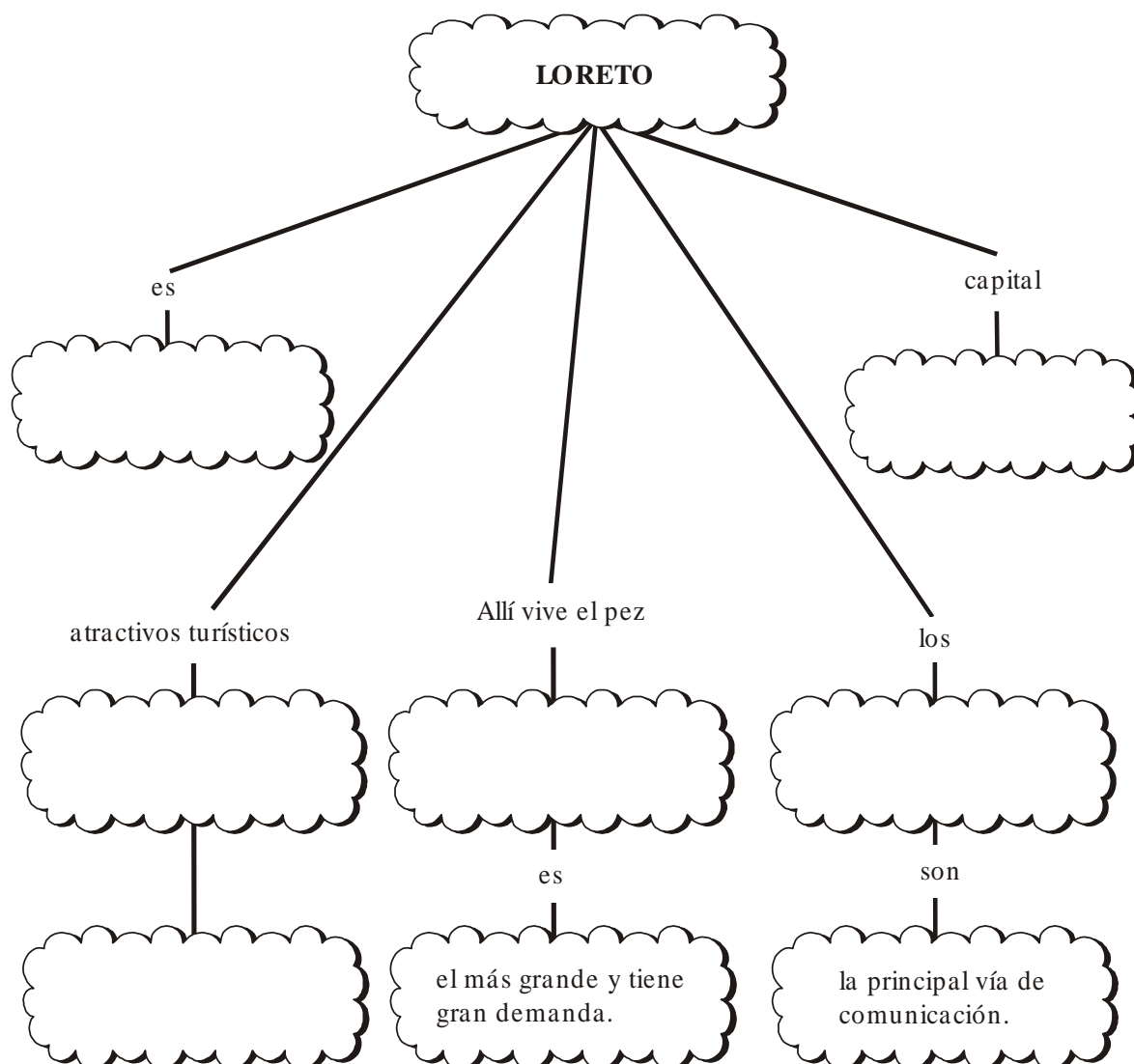
Los ríos son la principal vía de comunicación en la amazonía peruana.

También existen numerosas pequeñas lagunas creadas por los cambios de curso de los ríos, conocidas como "cochas" y "tipishcas".



L O R E T O	Capital	{ Iquitos 106 m.s.n.m.
	Clima	{ Tropical lluvioso.
	Temperatura	{ Entre 22°C - 31°C.
	Provincias	{ Alto Amazonas, Loreto, Mariscal Ramón Castilla, Maynas, Requena y Ucayali.
	Atractivos turísticos	{ Plaza de Armas de Iquitos, barrio de Belén la “Casa de Hierro”, laguna de Quistococha, comunidades nativas, paradisíacos paisajes, etc.
	Folclore	{ Elaboración de artesanías. Platos típicos: inchicapi de gallina, juane, nina, tacacho, etc. Fiestas: Carnaval, Fiesta de San Juan, etc.
	Economía	{ Extracción forestal y petrolera. <u>Principal cultivos</u> : Yuca, plátano, maíz, arroz, piña, palmera aceitera, cacao, chonta o palmito. <u>Ganadería</u> : Porcino, vacuno, ovino, y caprino. <u>Minería</u> : Se explotan yacimientos no metálicos (arena, calizas, sales). También se extrae oro. <u>Pesquería</u> : Especies como la doncella, boquichico, palometa, paiche, zúngaro, etc.

¡AHORA COMPLETA EL MAPA CONCEPTUAL, TÚ PUEDES!



- Localiza en el mapa las provincias de Loreto.



- Menciona las provincias de Loreto:

1. _____
2. _____
3. _____
4. _____
5. _____
6. _____

Atractivos turísticos



Plaza de Armas de Iquitos



Prefectura - Arquitectura



Río Amazonas



Reserva Nacional Pacaya - Samiria

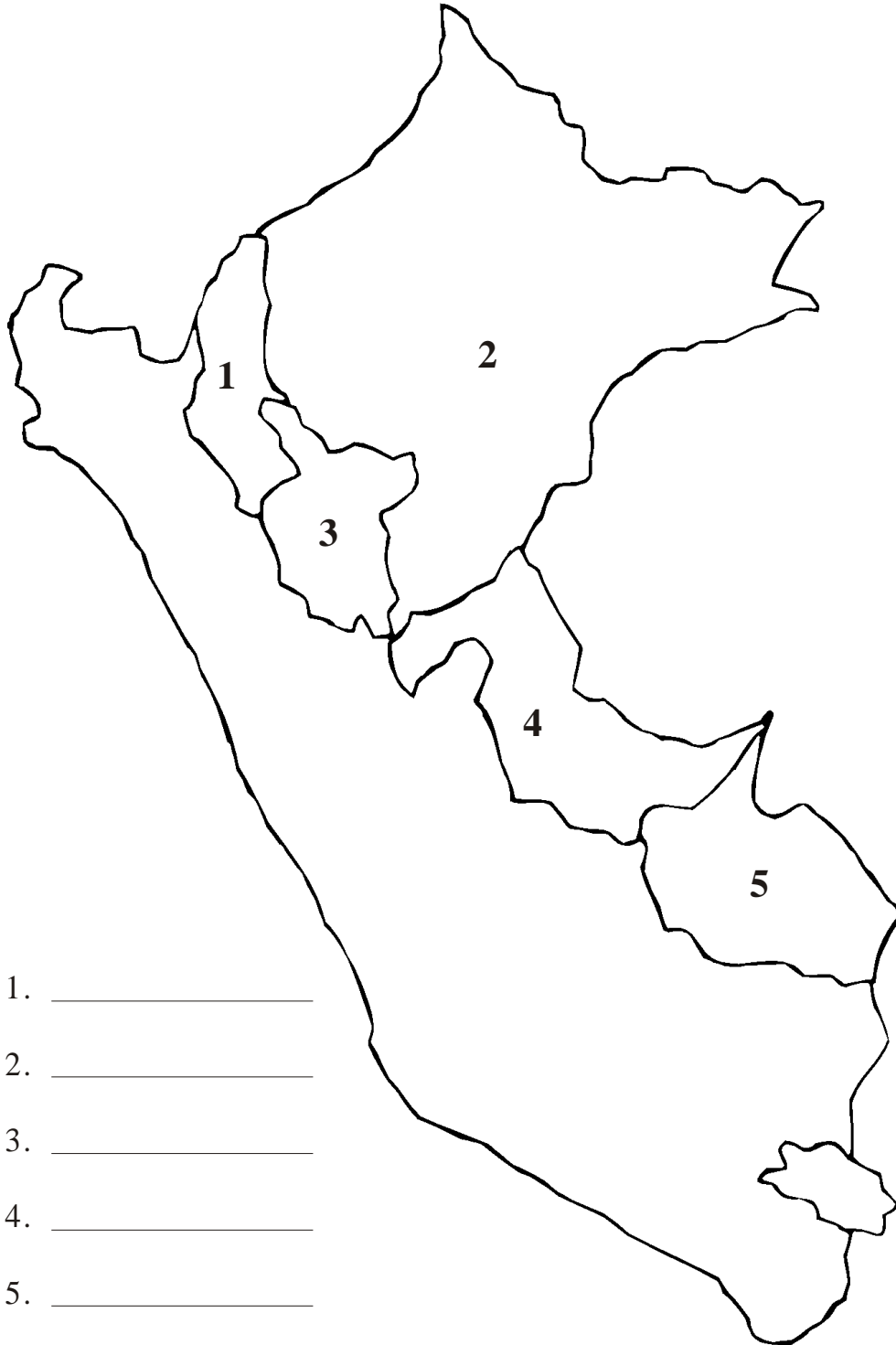
«Ama» significa romper y «zona» canoa, es decir, río rompe canoas.

Es la reserva nacional más extensa del país.
Allí habita el delfín rosado.

Ejercicios



I. Ubica los departamentos que pertenecen a la Selva. Colorea.



1. _____
2. _____
3. _____
4. _____
5. _____

II cruci letras

En la siguiente sopa de letras, busca el nombre de las provincias de Loreto.

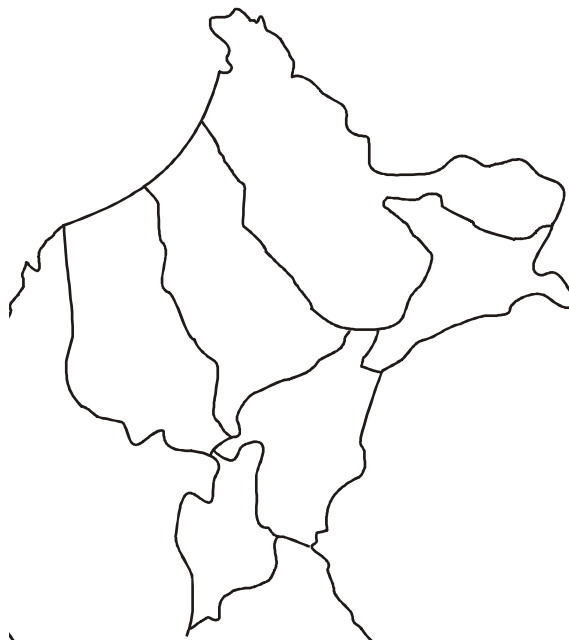
R	A	M	O	N	C	A	S	T	I	L	L	A	L	U
M	U	C	A	M	B	O	S	H	A	E	D	U	K	C
P	R	C	A	M	A	N	A	C	S	G	H	J	K	A
I	S	E	A	Y	A	O	V	I	T	U	O	F	F	Y
T	O	A	Q	U	L	C	E	H	E	R	I	S	R	A
A	T	U	H	U	S	L	U	I	L	E	U	A	L	L
I	E	N	R	P	E	L	O	T	L	E	R	N	P	I
T	R	I	T	A	D	N	A	M	A	E	R	Y	W	Y
C	O	O	A	C	A	O	A	L	A	E	T	A	A	Y
A	L	T	O	A	M	A	Z	O	N	A	S	M	F	H



III. Y ahora, al mapa

En el siguiente mapa, ubica las provincias de Loreto.

1. Alto Amazonas
2. Loreto
3. Ramón Castilla
4. Maynas
5. Requena
6. Ucayali

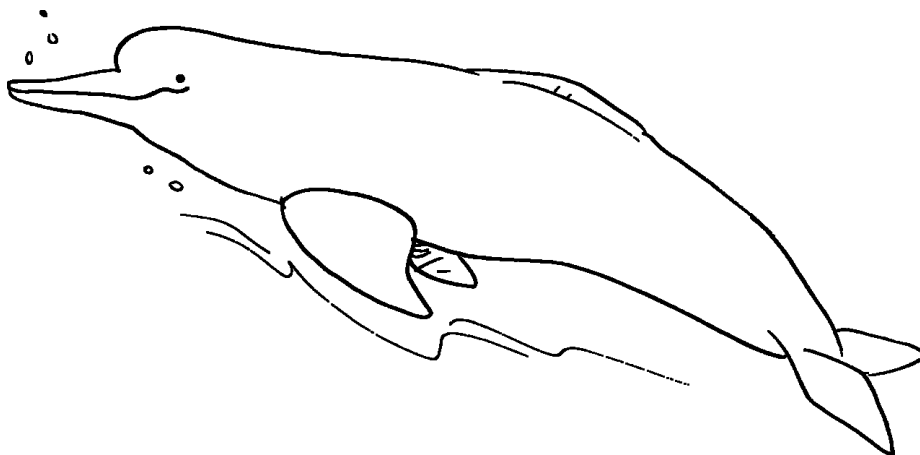




"El bufeo colorado"

Conocido también como boto o delfín rosado, está asociado a una serie de mitos amazónicos. Es un delfín pequeño que se ha adaptado al agua dulce y vive en la cuenca amazónica. Posee una joroba larga, baja con punta, que parece ser una aleta dorsal. Su pico es largo y angosto y tiene un abultamiento grande en la frente que contrasta con sus diminutos ojos.

Los adultos son de color rosado; mientras que los jóvenes generalmente son del tono grisáceo. Se alimenta de peces, cangrejos y tortugas, suele aproximarse a los nadadores, pero sin atacarlos.



Responde:

1. ¿Cuál es la alimentación del delfín rosado? ¿Dónde vive?

2. Coloca verdadero (V) o falso (F) según corresponda:

- | | |
|--|--------|
| A) El bufeo colorado ataca a los nadadores. | () |
| B) Desde su nacimiento son rosados. | () |
| C) El delfín rosado vive en el río Rímac. | () |
| D) El bufeo colorado es un cetáceo del Perú. | () |



Busca información acerca de las etnias selváticas o comunidades nativas, menciónalas e ilustra.

A large, empty rectangular box with a black border, intended for a student to draw or illustrate their findings.



Nombre: _____ Grado: _____
4.º _____

I. Lee atentamente y responde:

FIESTA DE SAN JUAN

Esta fiesta se celebra en todos los pueblos y ciudades del departamento el 24 de junio de cada año. Se cree que San Juan bendice el cauce de los ríos y quien se bañe en ellos tendrá dicha y felicidad durante todo el año. En la ciudad de Iquitos la fiesta central se celebra en el barrio de San Juan, de donde sale una procesión que recorre las principales calles. Las celebraciones empiezan con las humishas, palmeras especialmente decoradas y cargadas con regalos, alrededor de las cuales bailan grupos de personas reunidos en pandillas. El plato típico de la fiesta es el juane, tamal de arroz con gallina envuelto en hojas de bijao y consumido en toda la región. En algunas poblaciones las fiestas se extienden hasta el día siguiente.

Responde:

1. ¿En qué lugares se celebra la fiesta?

2. ¿En qué consiste la fiesta?

3. ¿Cuál es el plato típico de la fiesta?

4. ¿En qué fecha podemos participar de la Fiesta de San Juan?

5. Es el río más caudaloso del mundo:

ENTÉRATE DE ESTE LINDO ANIMALITO DE LA SELVA PERUANA

¡Qué tal! Sabías que soy una especie en peligro de extinción, así que debes cuidarme. Me encanta comer vegetales y descansar en nidos que yo mismo construyo. Aunque me gusta estar por todo el territorio peruano prefiero el bosque húmedo de la selva.



Nombre: _____
Grado: 4.º _____

I. Lee el siguiente texto y luego responde:

JUNÍN, UN DEPARTAMENTO ANDINO Y SELVÁTICO

La enorme importancia del complejo minero-metalúrgico de La Oroya considerado el más sofisticado del mundo y uno de los más grandes de Sudamérica, ha hecho que mucha gente piense en este departamento como si fuera fundamentalmente de sierra cuando, por el contrario, la mayor parte de su territorio se encuentra en la región de la Selva Alta de la Amazonía, con altitudes entre los 600 y 2000 m.s.n.m.

Responde:

1. ¿Qué regiones abarca el departamento de Junín?

2. ¿Cuál es la altitud que abarca el territorio de Junín en la Selva Alta?

3. ¿Cuál es el complejo minero ubicado en Junín considerado el más sofisticado del mundo?

4. ¿En qué región se encuentra la mayor parte del territorio de Junín?
