



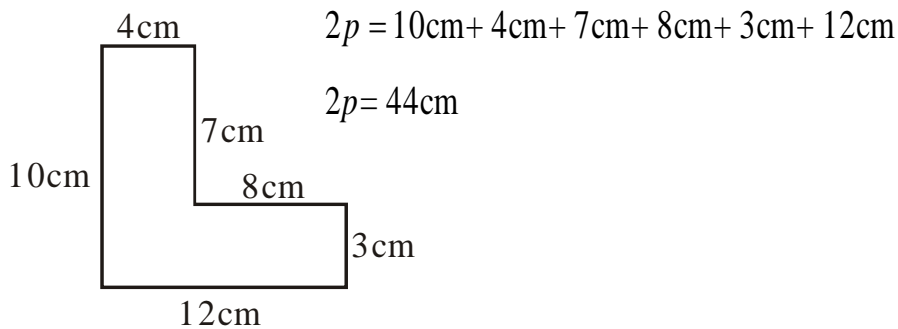
## LOS PERÍMETROS

Es la suma de las medidas de los lados de un polígono.

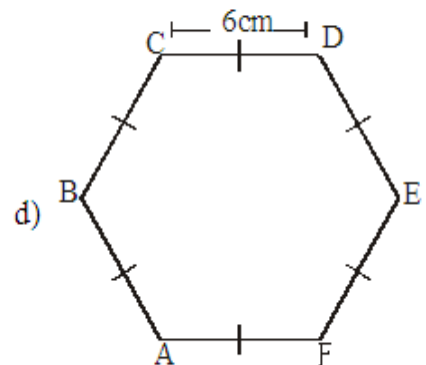
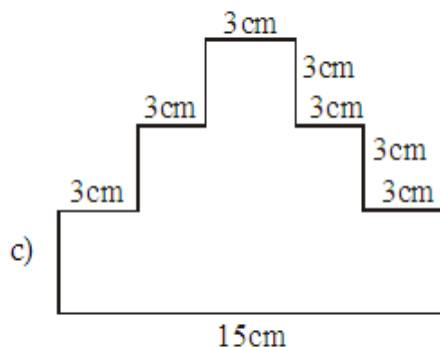
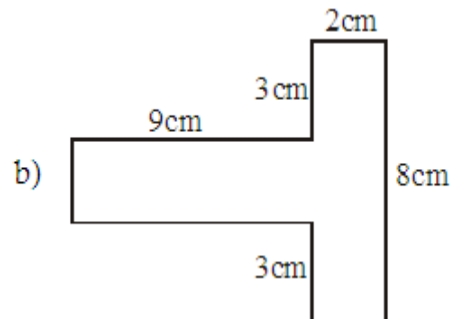
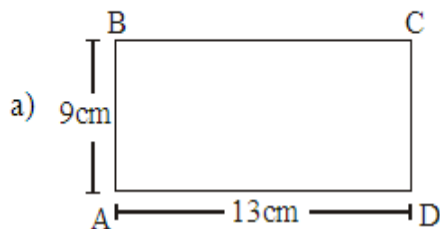
■ **NOTACIÓN:** El perímetro se denota por (2p).

**Ejemplo:**

Halla el perímetro de:



I. Halla el perímetro de:



- e) Un dodecágono regular cuyo lado mide 9cm.      f) Un octágono regular cuyo lado mide 13,6cm.
- 

## II. Resuelve:

Halla la medida del lado de un hexágono regular cuyo perímetro mide 120 cm.

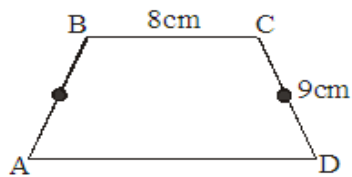


**RABAJEMOS EN CASA**

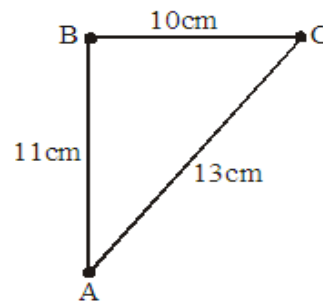


### I. Hallar el perímetro de cada figura:

1) Trapezio Isósceles.

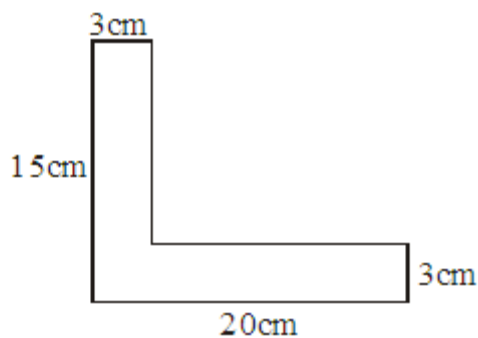


3) Triángulo

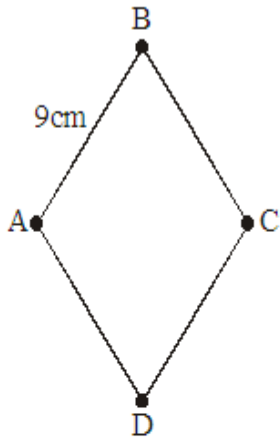


2) De un icoságono regular cuyo lado mide 7 cm

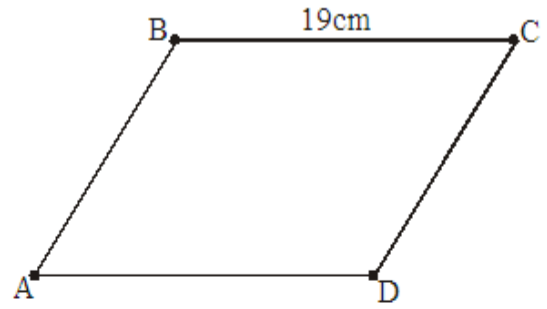
4)



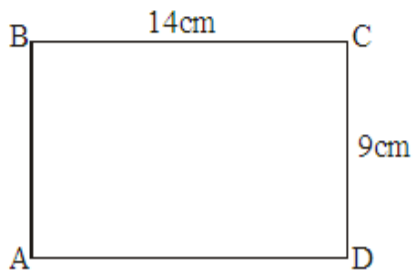
5) Rombo:



7) Romboide:



6) Rectángulo:



8)

