





## TÉRMINO EXCLUIDO

Colorea la figura que no corresponde a cada recuadro.



## TÉRMINO EXCLUIDO

Encierra cada término excluido.

$5 + 2$	$3 + 4$	$2 + 4$	$6 + 1$	$7 + 0$	$2 + 5$	$4 + 3$
---------	---------	---------	---------	---------	---------	---------

$8 + 8$	$9 + 7$	$10 + 6$	$5 + 3$	$7 + 9$	$6 + 10$
---------	---------	----------	---------	---------	----------

$6 + 6$	$7 + 5$	$8 + 4$	$5 + 6$
---------	---------	---------	---------

$3 + 2$	$4 + 1$	$1 + 2$	$5 + 0$
---------	---------	---------	---------

## **TÉRMINO EXCLUIDO**

Encierra la alternativa que no pertenece al grupo,

**1) = 10**

a)  $2 + 8$

b)  $3 + 4$

c)  $6 + 4$

d)  $7 + 3$

**2) = 15**

a)  $3 + 5$

b)  $7 + 8$

c)  $9 + 6$

d)  $11 + 4$

**3) = 12**

a)  $9 + 3$

b)  $5 + 7$

c)  $4 + 3$

d)  $6 + 6$

**4) = 20**

a)  $15 + 5$

b)  $13 + 7$

c)  $10 + 10$

d)  $10 + 5$

# EJERCICIOS

## 1) Encierra la suma excluida

a)  $2 + 3$

b)  $4 + 1$

c)  $3 + 3$

d)  $5 + 0$

a)  $10 + 8$

b)  $7 + 9$

c)  $9 + 9$

d)  $11 + 7$

## 2)Cuál es la expresión excluida a:

**33**

a)  $3D + 1U$

b)  $3D + 3U$

c)  + 

d)  $30 + 3$

**55**

a)  $50 + 5$

b)  $5D + 5U$

c)  $50 + 8$

d)  + 

## Práctica Calificada

Nombres: \_\_\_\_\_

Fecha: \_\_\_\_\_

Nota:



- 1) *Observa detenidamente por unos instantes luego cubre las figuras, y nombra lo que viste.*



- 2) *Suma mentalmente y coloca el resultado.*

$38 + 6 = \square$

$45 + 8 = \square$

$66 + 3 = \square$

- 3) *Resuelve las sumas incompletas.*

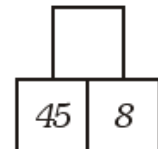
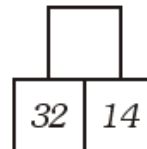
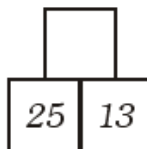
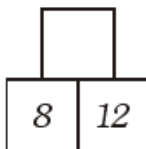
$$\begin{array}{r} 6 + \\ \square \\ \hline 8 \end{array}$$

$$\begin{array}{r} 9 + \\ \square \\ \hline 13 \end{array}$$

$$\begin{array}{r} \square + \\ 3 \\ \hline 10 \end{array}$$

$$\begin{array}{r} \square + \\ 5 \\ \hline 12 \end{array}$$

- 4) *Resuelve pirámides.*



- 5) *Marca el término excluido.*

A)            = 13

a)  $5 + 7$

b)  $6 + 7$

c)  $9 + 4$

B)            = 45

a)  $40 + 5$

b)  $50 + 4$

c)  $4D + 5U$