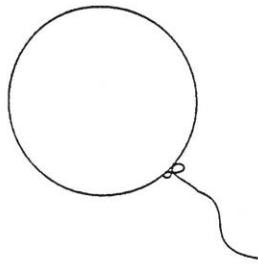
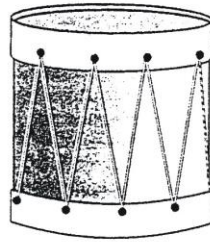


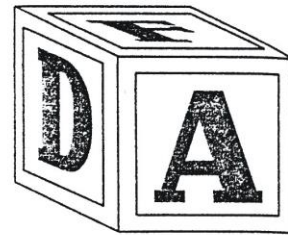



¿DE QUE FORMA SOY?

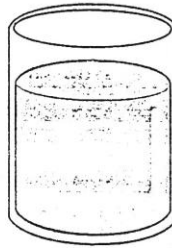
Observo cada objeto y escribo la forma que tiene.






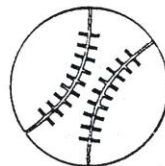


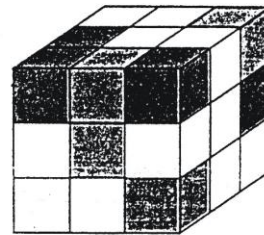


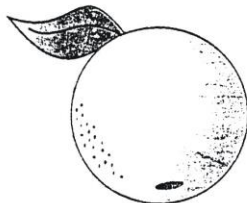




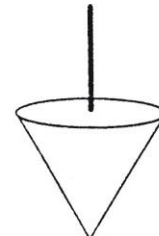













EXPLORANDO TUS CONOCIMIENTOS

Nombre y Apellido: _____

Fecha: _____



1. Unir según corresponda:

985 •

• Mil

749 •

• Novecientos ochenta y cinco

876 •

• Setecientos cuarenta y nueve

1000 •


• Ochocientos setenta y seis

2. Ordenar, escribir y graficar según te indiquen:

	Número	Graficar
4d, 4u, 2c		
5u, 6d, 3c		
2d, 5c, 2u		
1c, 5d, 7u		



Somos los mejores



3. Resuelve las sumas y las restas:

$$\begin{array}{r} 495 + \\ \underline{297} \end{array}$$

$$\begin{array}{r} 282 + \\ \underline{179} \end{array}$$

$$\begin{array}{r} 300 + \\ \underline{192} \end{array}$$

$$\begin{array}{r} 725 + \\ \underline{297} \end{array}$$



4. Escribe el número anterior y posterior:

_____ 934 _____

_____ 745 _____

_____ 850 _____

_____ 890 _____

5. Coloca el signo < > o =

934  943

900  900

886  868

796  769


6. Completa los cuadros:


DOBLE	
126	
159	
295	
329	

MITAD	
500	
900	
728	
846	

TRIPLE	
152	
200	
310	
195	

7. Efectúa las operaciones combinadas:

a. $900 - 500 + 156 + 225 =$ 

b. $799 - 253 + 199 - 324 =$ 




8. Descomposición de números:

- a. 742 \rightsquigarrow _____ ó _____
 b. 597 \rightsquigarrow _____ ó _____



9. Escribe si o no:

- a. Una centena equivale a 100 unidades ()
 b. Una decena equivale a 20 unidades ()
 c. $3c + 2d + 1u$ es 312 ()
 d. Un metro es igual a 100 cm. ()
 e. La unidad de masa es el kilogramo ()
 f. Una hora tiene 60 segundos ()
 g. Un año tiene 15 meses ()
 h. Una semana tiene 10 días ()
 i. Un día tiene 24 horas ()
 j. El cilindro tiene la forma de un tarro de leche ()
 k. La esfera tiene la forma de un dado ()




¡ Tu puedes
 por que eres
 el ,mejor!




10. Escribe si es par o si es impar:



11. ¿Qué hora es?







12. Problemas:

a. Mi tía tiene 36 y mi abuela tiene el triple que mi tía ¿Cuántos años tiene mi abuela?

Operación

Respuesta

b. Pedro tiene 130 años y Ana tiene la mitad de la edad de Pedro ¿Cuántos años tiene Ana?

Operación

Respuesta

¡ Tu eres campeón!

LOGICO MATEMATICO