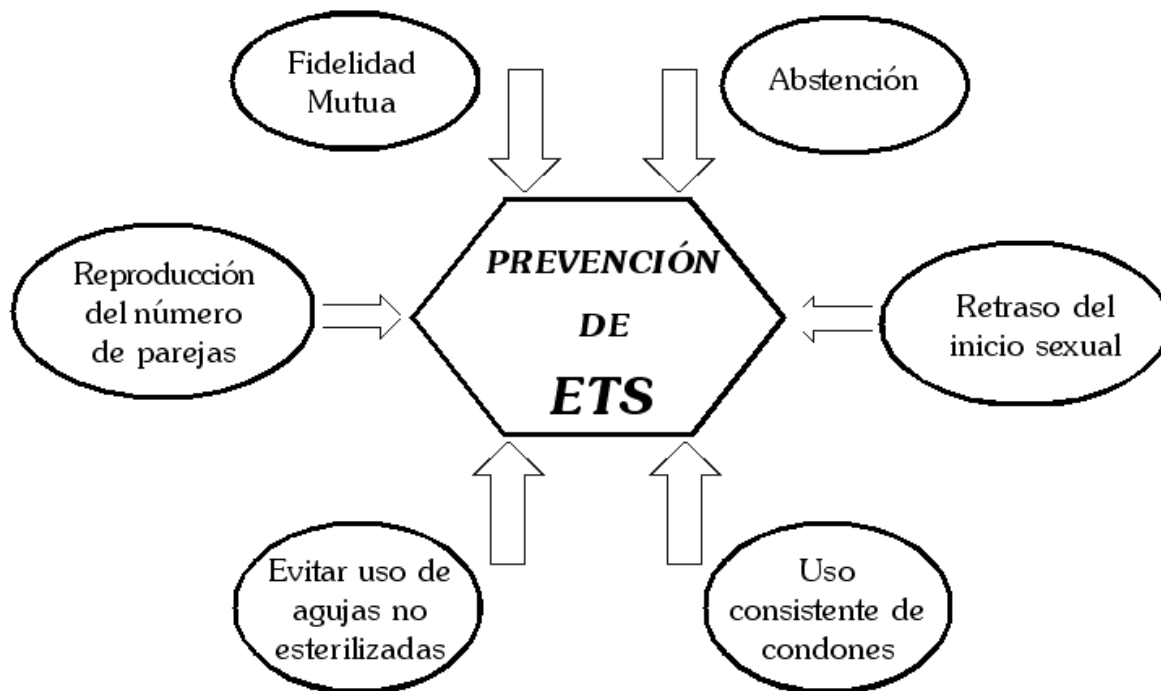
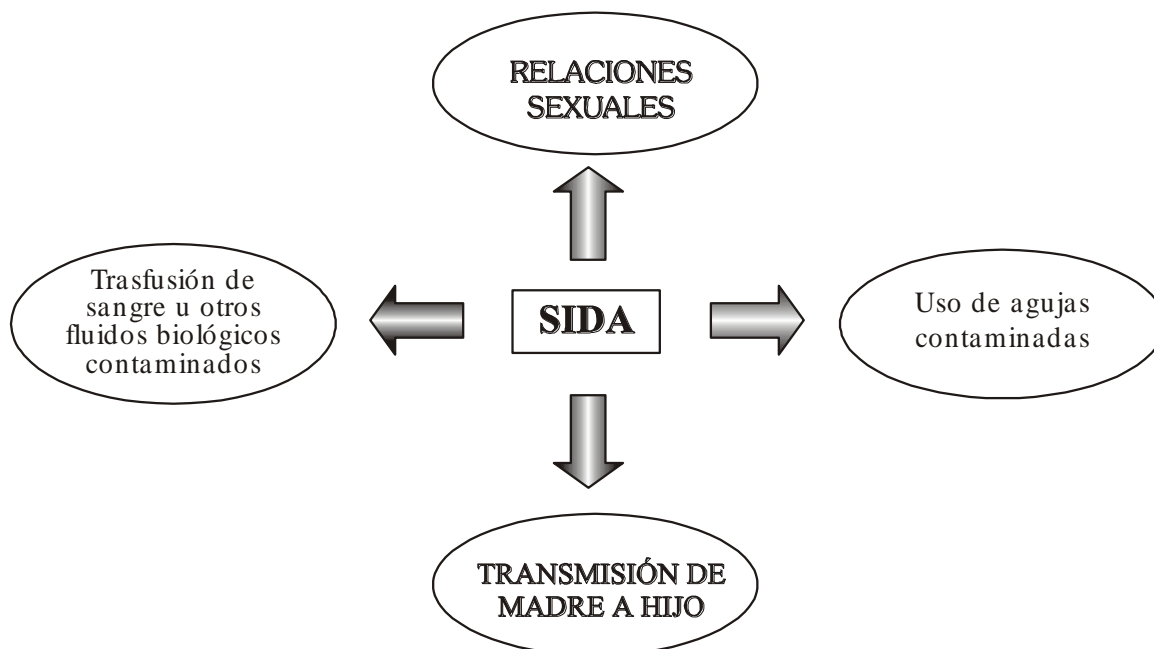




COMO PREVENIR LAS ETS

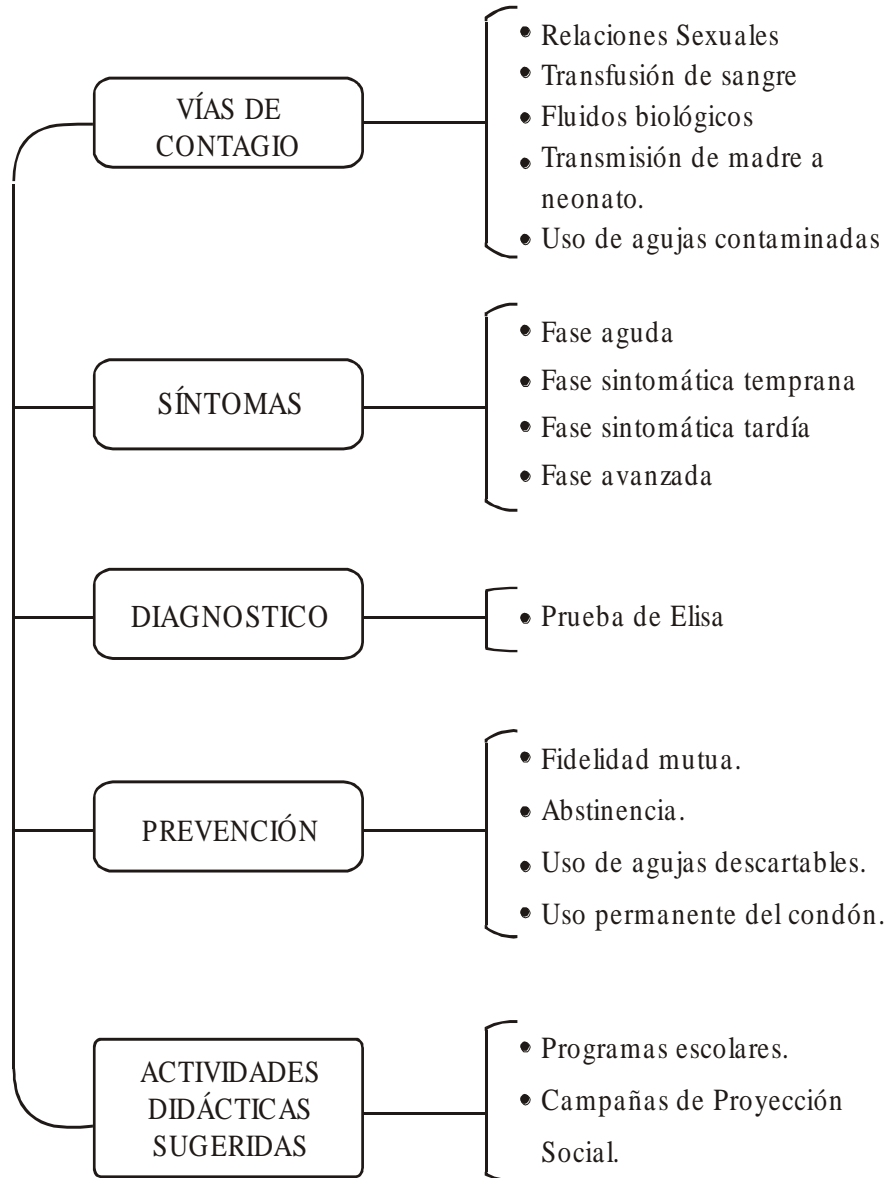


1. Vías de contagio:

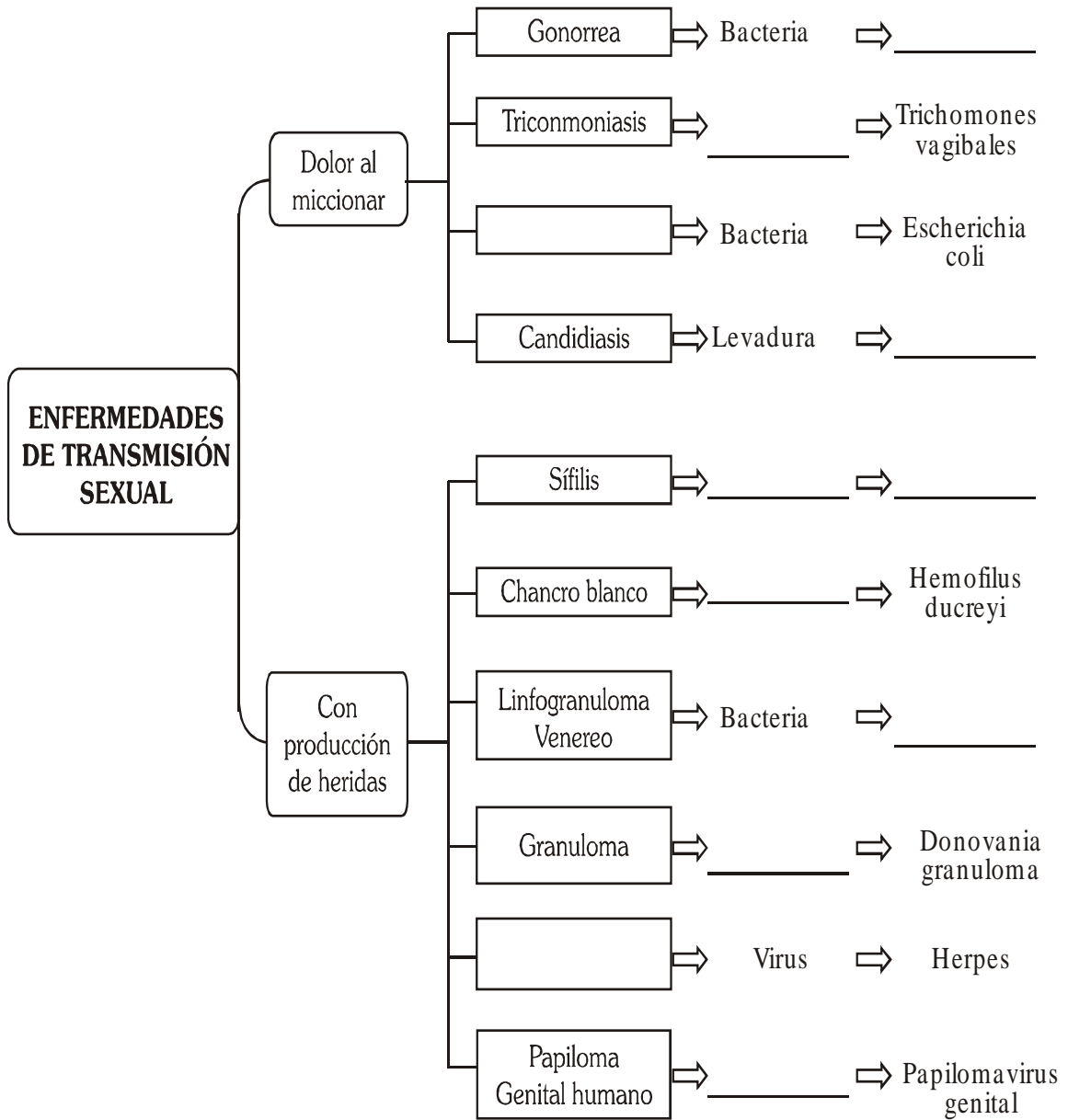


ESTRUCTURA DEL VIRUS DE INMUNODEFICIENCIA

SIDA
SÍNDROME DE
INMUNO
DEFICIENCIA
ADQUIRIDA



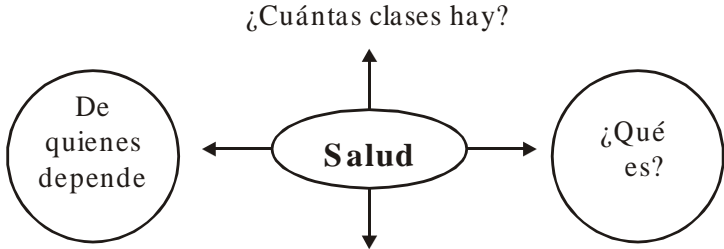
Completa el cuadro adecuadamente:



SALUD

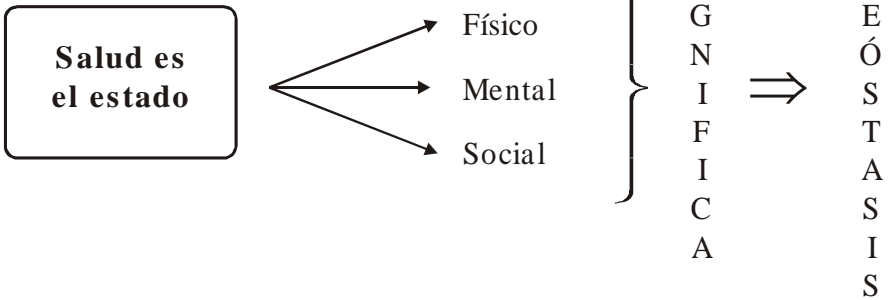
Completa:

.....



¿Cómo conservarla?
¡MUY BIEN!

Ahora vamos a desarrollar cada uno de los conceptos

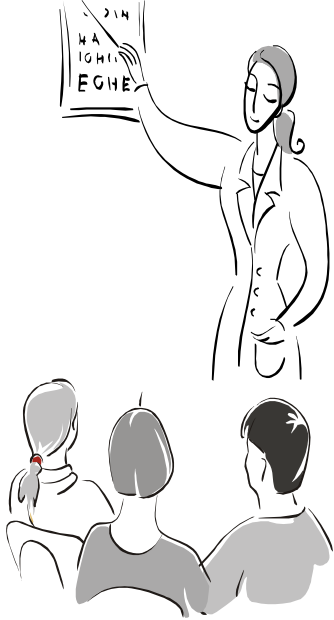


¿Qué debemos hacer para estar bien de salud?

- | | | |
|---------|---------|----------|
| 1. | 5. | 9. |
| 2. | 6. | 10. |
| 3. | 7. | |
| 4. | 8. | |

ENFERMEDAD

Observa y comenta c/u de las siguientes figuras:





CIENCIA Y AMBIENTE











FACTORES QUE PRODUCEN LAS ENFERMEDADES



¿Cómo se defiende nuestro organismo de microbios?



Mencionar consecuencias de la desinfección exagerada !!!

Aquí encontrarás
palabras que te
ayudarán a
explicar la
pregunta anterior.
Encuétralas
¡Tú puedes!

T	Y	Q	G	L	O	B	U	L	O	S	N	U
H	V	C	A	T	G	A	R	B	M	P	D	Y
Z	M	Z	U	N	N	O	G	P	Q	K	J	Q
A	I	P	B	A	T	H	T	N	I	M	F	B
O	C	U	Z	O	W	I	J	A	A	B	X	C
Z	R	G	B	L	A	N	C	O	S	P	B	Q
Z	O	T	S	R	Q	O	N	U	Ñ	V	M	W
H	B	J	I	N	A	R	O	V	E	I	I	J
W	I	Ñ	W	Y	S	P	W	Z	F	R	A	A
O	O	A	Z	T	Q	X	Z	Ñ	S	U	P	P
T	G	U	R	Y	P	Q	L	S	T	S	B	O

Relaciona:

Si la enfermedad es por un virus, bacterias, hongos, protozoarios

VIRUS

- A) Cólera
- B) Paludismo
- C) Rabia
- D) Tiña

BACTERIAS

- E) Tétanos
- F) Sarampión

HONGOS

- G) Lepra
- H) Pie de atleta
- I) Uta
- J) Sífilis
- K) Paperas
- L) Neumonía

PROTOZOARIOS

AGENTE PATÓGENO

¡Recuerda que...



ES EL CAUSANTE DE LA ENFERMEDAD

¿Quiénes son? ¿Ubícalos en el cuadro y ordénalos?

B	S	O	T	I	S	A	R	A	P	A	B	C
D	A	E	F	G	H	I	J	K	L	M	N	P
O	R	C	S	T	U	V	W	X	Y	Z	O	P
P	R	O	T	O	Z	O	A	R	I	O	S	B
Z	A	B	C	E	D	E	F	G	R	H	O	C
J	J	K	L	R	R	N	U	Ñ	G	Ñ	W	S
O	P	Q	R	S	I	T	U	S	V	N	R	P
W	X	Y	Z	A	A	B	C	O	D	E	F	G
D	E	F	G	H	I	S	J	H	I	J	K	L

- a)
- b)
- c)
- d)
- e)